

PROBLEMAS

DE ONDAS.

EFECTO DOPPLER

Autor: *José Antonio Diego Vives*

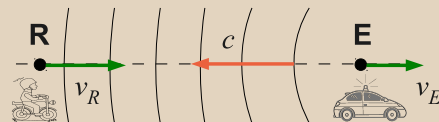
*Documento bajo licencia
Creative Commons (BY-SA)*

Problema 1

Una sirena que emite un sonido de $f_E = 1000$ Hz se mueve alejándose de un observador en reposo y dirigiéndose hacia un acantilado con velocidad constante de $v_1 = 10$ m/s. Determinar la diferencia de frecuencia entre la onda que recibe el observador directamente de la sirena y la onda que le llega reflejada en el acantilado.

Para resolver este problema utilizaremos la fórmula del efecto Doppler:

$$\frac{f_E}{c + v_E} = \frac{f_R}{c + v_R}$$



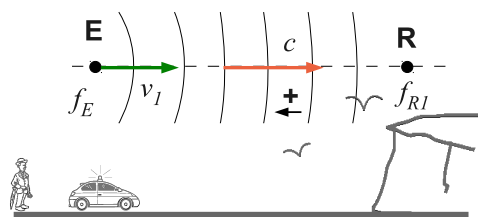
Sentidos positivos de las velocidades

Donde f_E , f_R son las frecuencias a la que se emiten las ondas y a la que se reciben y v_E , v_R y c las velocidades del emisor (E), del receptor (R) y de las ondas respectivamente. Se toma v_E positivo si 'E' se aleja de 'R', y v_R es positivo si 'R' se aproxima a 'E'. c siempre es positiva.

Solución

El observador recibirá las ondas reflejadas en el acantilado con la misma frecuencia a la que estas ondas llegan al acantilado ya que ambos están en reposo. Sin embargo las ondas llegan al acantilado con una frecuencia diferente a f_E ya que el emisor (la sirena) se está moviendo.

Tomando la sirena como emisor y el acantilado como receptor: $v_R = 0$ y $v_E = -v_1$ ya que el emisor se aproxima al receptor (el acantilado). La frecuencia con la que llegan las ondas al acantilado (f_{R1}) y, una vez rebotadas, luego al observador es:



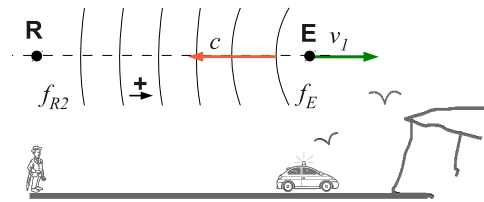
Ondas que llegan y rebotan en el acantilado.

$$\frac{f_E}{c - v_1} = \frac{f_{R1}}{c} \rightarrow f_{R1} = f_E \frac{c}{c - v_1}$$

Sustituyendo los valores numéricos del problema, obtenemos:

$$f_{R1} = 1030 \text{ Hz}$$

La frecuencia de las ondas que llegan al observador directamente de la sirena variará también debido al efecto Doppler. Tomando en este caso la sirena como emisor y el observador como receptor: $v_R = 0$ y $v_E = v_1$ ya que el emisor se aleja del receptor. La frecuencia con la que llegan las ondas al observador (f_{R2}) es:



Ondas que llegan directamente al observador.

$$\frac{f_E}{c + v_1} = \frac{f_{R2}}{c} \rightarrow f_{R2} = f_E \frac{c}{c + v_1}$$

Sustituyendo los valores numéricos del problema, obtenemos:

$$f_{R2} = 971 \text{ Hz}$$

La diferencia entre las frecuencias que llegan al observador es:

$$\Delta f = f_{R1} - f_{R2} = 59 \text{ Hz}$$

Problema 2

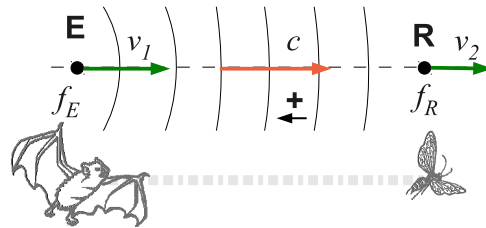
Un murciélago que persigue una mosca emite ultrasonidos a una frecuencia de 55 kHz. El murciélago se mueve a $v_1 = 13$ m/s y la mosca a $v_2 = 2,4$ m/s ambos en la misma recta y no hay viento apreciable. Calcular en estas condiciones:

- (a) Frecuencia con la que llegan las ondas a la mosca.
- (b) Frecuencia que detectará el murciélago para el sonido reflejado en la mosca.

Solución

- (a) Frecuencia con la que llegan las ondas a la mosca.

En este caso el murciélago es el emisor y su velocidad es $v_E = -v_1$ ya que el murciélago persigue (se acerca) a la mosca. La mosca es el receptor y $v_R = -v_2$ ya que la mosca se intenta alejar (huye) del murciélago:



Ondas que llegan a la mosca.

$$\frac{f_E}{c - v_1} = \frac{f_R}{c - v_2} \rightarrow f_R = f_E \frac{c - v_1}{c - v_2}$$

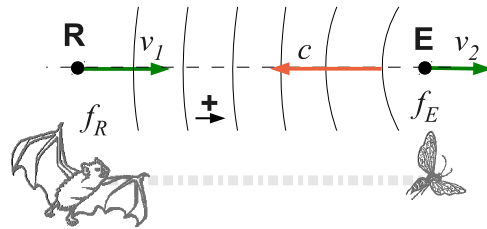
Sustituyendo los valores numéricos del problema, obtenemos:

$$f_R = 56,78 \text{ kHz}$$

- (b) Frecuencia que detectará el murciélago para el sonido reflejado en la mosca.

Ahora la mosca actúa de emisor reflejando las ondas a la misma frecuencia que le llegan y el murciélago actúa de receptor. En este caso por lo tanto f_E son los 56,78 kHz obtenidos en el apartado anterior.

Tomamos $v_E = +v_2$ ya que la mosca (emisor) se aleja del murciélago. El murciélago (receptor) se acerca a la mosca por lo que $v_R = +v_1$:



Ondas que llegan al murciélago.

$$\frac{f_E}{c + v_2} = \frac{f_R}{c + v_1} \rightarrow f_R = f_E \frac{c + v_2}{c + v_1}$$

Sustituyendo los valores numéricos del problema, obtenemos:

$$f_R = 58,54 \text{ kHz}$$

Problema 3

Un coche se desplaza por una carretera recta con exceso de velocidad. Un radar móvil situado al borde de la carretera emite microondas de frecuencia $f_E = 3 \times 10^9$ Hz. Cuando el coche se está alejando del radar, éste puede medir la velocidad del coche a partir de la interferencia entre las ondas que emite y las ondas que le llegan reflejadas en la parte posterior del vehículo. Si en esta interferencia se producen pulsaciones de frecuencia $f_P = 576$ Hz:

- Determinar qué velocidad lleva el coche v_C .
- A continuación el coche de policía se dispone a perseguir al vehículo que se da a la fuga acelerando. Si cuando la policía va a 110 km/h el radar indica pulsaciones de 375 Hz, ¿qué velocidad llevará ahora el coche fugado?

Solución

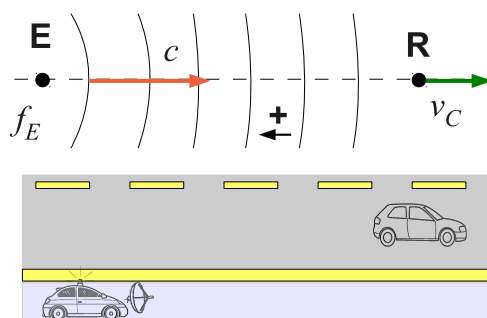
- Determinar qué velocidad lleva el coche.

Las ondas que llegan al radar, reflejadas en el coche, tienen una frecuencia diferente a f_E ya que experimentan dos veces el efecto Doppler. Al superponer estas ondas de frecuencia f_R con las ondas originales del radar, se producirán pulsaciones de frecuencia $f_P = |f_E - f_R|$ tal y como predice la teoría.

Para determinar la frecuencia de las ondas que llegan reflejadas al radar tenemos que saber primero con qué frecuencia llegan y rebotan en el coche (efecto Doppler 1) y luego con qué frecuencia el radar recibirá estas ondas rebotadas (efecto Doppler 2).

Frecuencia con que las ondas rebotan en el coche.

En este caso el radar es el emisor y su velocidad es $v_E = 0$ ya que está parado en el arcén. El coche es el receptor y $v_R = -v_C$ ya que se aleja del radar con velocidad v_C :

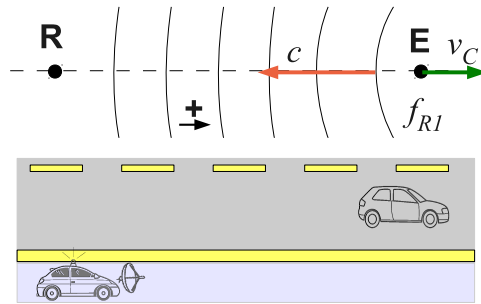


Ondas que llegan al coche.

$$\frac{f_E}{c} = \frac{f_{R1}}{c - v_C} \longrightarrow f_{R1} = f_E \frac{c - v_C}{c}$$

Frecuencia con que las ondas rebotadas llegan al radar.

Ahora el coche actúa de emisor emitiendo con una frecuencia $f_E = f_{R1}$, y su velocidad es $v_E = +v_C$ ya que se aleja del receptor. El radar es el receptor y $v_R = 0$ ya que está parado en el arcén:



Ondas rebotadas que llegan al radar.

$$\frac{f_{R1}}{c + v_C} = \frac{f_{R2}}{c} \rightarrow f_{R2} = f_{R1} \frac{c}{c + v_C}$$

Sustituyendo la expresión obtenida anteriormente para f_{R1} :

$$f_{R2} = f_E \frac{c - v_C}{c} \frac{c}{c + v_C} = f_E \frac{c - v_C}{c + v_C}$$

Las pulsación que se producirán por la superposición de las ondas son:

$$f_P = |f_E - f_{R2}| = f_E \left(1 - \frac{c - v_C}{c + v_C} \right)$$

de donde se puede despejar la velocidad del coche v_C :

$$v_C = c \frac{f_P}{2f_E - f_P} = 28,8 \frac{\text{m}}{\text{s}} = 103,7 \frac{\text{km}}{\text{h}}$$

(b) A continuación el coche de policía se dispone a perseguir al vehículo que se da a la fuga acelerando. Si cuando la policía va a 110 km/h el radar indica pulsaciones de 375 Hz, ¿qué velocidad llevará ahora el coche fugado?

Si se cumple que $c \gg v_E, v_R$ (totalmente válido para el caso de ondas electromagnéticas), la fórmula del efecto Doppler se puede simplificar por:

$$f_R = f_E \left(1 + \frac{v_r}{c} \right)$$

Donde f_E, f_R son las frecuencias a la que se emiten las ondas y a la que se reciben, $v_r = \pm |v_E - v_R|$ es la velocidad relativa entre el receptor y el emisor tomada positiva si se acercan y negativa si se alejan uno del otro, y c la velocidad de las ondas (siempre positiva).

Si el radar detecta ahora pulsaciones de frecuencia $f_P = 375$ Hz, la frecuencia con la que le llegan al radar las ondas rebotadas en el coche (f_{R2}) es:

$$f_P = |f_E - f_{R2}| \rightarrow f_{R2} = f_E - f_P = (3 \times 10^9 - 375) \text{ Hz}$$

donde hemos tomado el signo '-' ya que el coche fugado irá a más de 110 km/h alejándose del coche de policía.

Esta frecuencia f_{R2} es el resultado de aplicar dos veces el efecto Doppler, como se explicó en el apartado (a), por lo que se cumple:

$$f_{R2} = f_{R1} \left(1 - \frac{v_r}{c}\right) = f_E \left(1 - \frac{v_r}{c}\right)^2$$

de donde podemos despejar la velocidad relativa del coche respecto del coche de policía (v_r):

$$\frac{f_{R2}}{f_E} = \left(1 - \frac{v_r}{c}\right)^2 \rightarrow v_r = c \left(1 - \sqrt{\frac{f_{R2}}{f_E}}\right)$$

sustituyendo los valores numéricos del problema y el valor de f_{R2} encontrado anteriormente, queda:

$$v_r = 3 \cdot 10^8 \left(1 - \sqrt{\frac{3 \cdot 10^9 - 375}{3 \cdot 10^9}}\right) = 18,7 \frac{\text{m}}{\text{s}} = 67,4 \frac{\text{km}}{\text{h}}$$

Finalmente, la velocidad del coche fugado será la velocidad que lleva el coche de policía más v_r :

$$v_C = 110 + 67,4 = 177,4 \frac{\text{km}}{\text{h}}$$

Problema 4

Una barca que navega a velocidad v produce ondas superficiales en un estanque debido a una oscilación vertical. La barca efectúa 12 oscilaciones en 20 segundos y cada oscilación produce una cresta de ola. Cada ola tarda $\Delta t = 6$ s en llegar a la orilla que se encuentra a $d = 12$ m de la barca. Además se observa que el ángulo que forman las dos ramas del rastro que deja la embarcación en el estanque es de 90° . Para este caso se pide:

- (a) ¿Cuál es la longitud de onda de las ondas generadas en la superficie del agua?
- (b) ¿A qué velocidad se desplaza la barca por el estanque?

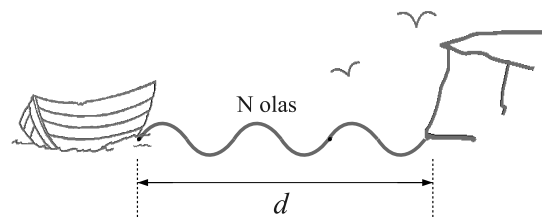
Solución

- (a) ¿Cuál es la longitud de onda de las ondas generadas en la superficie del agua?

Las ondas tardan $\Delta t = 6$ s en recorrer la distancia $d = 12$ m que separa la barca de la orilla. Desde que se genera una onda hasta que llega a la orilla se habrán generado ' $N = f\Delta t$ ' ondas más, siendo f la frecuencia de las ondas.

Estas N ondas generadas durante Δt estarán recorriendo la distancia d , por lo que la longitud de cada onda será:

$$\lambda = \frac{d}{N} = \frac{d}{f\Delta t}$$



Ondas entre la barca y la orilla

Como la barca realiza 20 oscilaciones en 20 segundos; $f = 20/20$ Hz = 1 Hz, y la longitud de onda será:

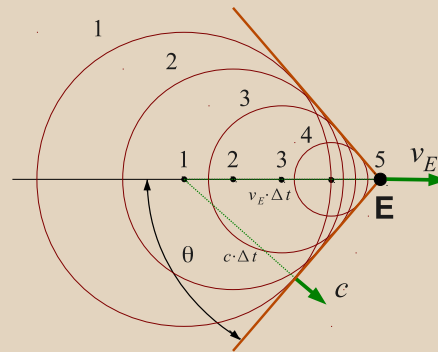
$$\lambda = \frac{12}{1 \cdot 6} = 2,00 \text{ m}$$

(b) ¿A qué velocidad se desplaza la barca por el estanque?

Si el emisor se desplaza a una velocidad v_E superior a la velocidad de las ondas c , las ondas generadas nunca podrán adelantar al emisor y se acumularán detrás de él. Se formará lo que se denomina una **onda de choque**.

Cada rama de la onda de choque forma un ángulo θ con la dirección de v_E que cumple:

$$\sin \theta = \frac{c \Delta t}{v_E \Delta t} = \frac{c}{v_E}$$



Podemos calcular v_E a partir del ángulo de la onda de choque que genera la barca:

$$\sin \theta = \frac{c}{v_E} \longrightarrow v_E = \frac{c}{\sin \theta}$$

Como las ondas tardan $\Delta t = 6$ s en recorrer la distancia $d = 12$ m que separa la barca de la orilla, la velocidad de las ondas es $c = d/\Delta t$. De donde obtenemos finalmente sustituyendo los datos del problema:

$$v_E = \frac{c}{\sin \theta} = \frac{d}{\Delta t \sin \theta} = 2,82 \frac{\text{m}}{\text{s}}$$